


# ВЕСЁЛЫЕ ДОМАШНИЕ ЗАДАНИЯ ДЛЯ ДЕТЕЙ.

Зачеркни неправильные часы.



Реши.



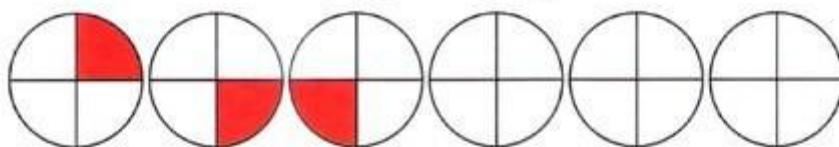
Запиши чётные числа до 20.

---

Из Васиного кармана выпрыгнули две лягушки, а три остались сидеть в кармане. Сколько всего лягушек сидело в Васином кармане?



Продолжи ряд.



Расставь числа, чтобы в сумме получилось 10.

		4	=10
7	2		=10
	5		=10

=10 =10 =10

Запиши порядковый счёт от 10 до 20.


---

У Кати были матрёшки. 4 матрёшки она собрала и убрала в сумочку, а две оставила. Сколько всего матрёшек у Кати?



Ответ: \_\_\_\_\_

Сколько кубиков нужно взять, чтобы  
собрать такую фигуру?




Раскрась все пирамидки красным, зелёным  
и синим цветами, чтобы не было двух  
одинаковых пирамидок.




Какие предметы имеют форму цилиндра?



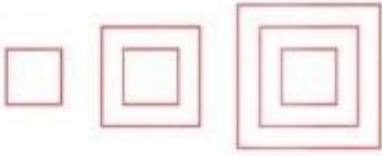
Сколько кубиков нужно взять, чтобы  
выложить такую фигуру?



Раскрась рыбок красным, зелёным и жёлтым  
цветами так, чтобы тело и хвост были  
разных цветов и все рыбки были разными.



Продолжи ряд.



Расставь числа, чтобы в сумме получилось 10.

5		2	=10
	4	1	=10
			=10

=10 =10 =10

Запиши все двузначные числа, которые можно составить из цифр 1 и 2.


---

Сколько всего времён года? Запиши их названия.

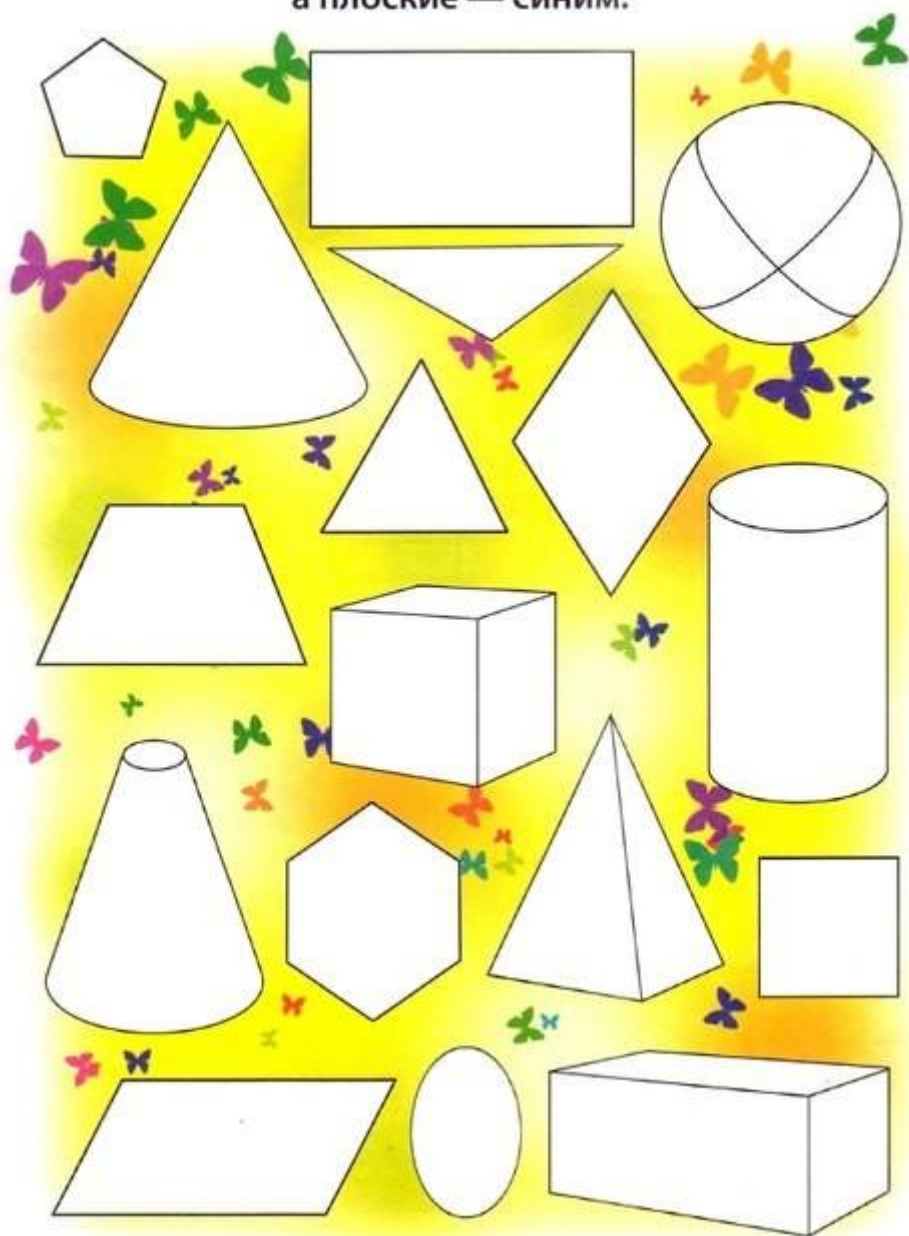
---

---

Тела вращения раскрась жёлтым цветом,  
а многогранники — красным.



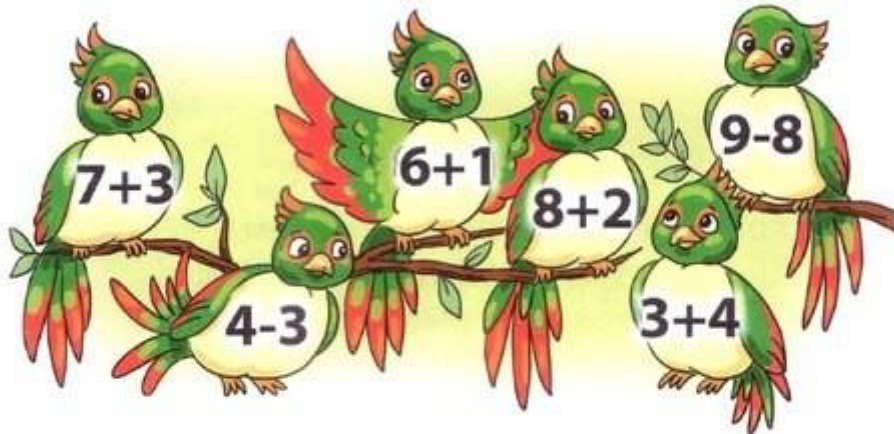
Объёмные фигуры раскрась красным цветом,  
а плоские — синим.



Зачеркни лишнее число.

2 4 6 7 8 10 12

Соедини примеры с одинаковыми ответами.



Запиши нечётные числа до 10.

---

Сколько нужно орешков, чтобы раздать  
трём белочкам по два орешка?

